





































● wat is minder?
 ● wat is meer?
 vergelijk en kleur de cirkeltjes

	 ○	 ○		 ○	 ○
	 ○	 ○		 ○	 ○
	 ○	 ○		 ○	 ○
 ○	 ○	 ○		 ○	 ○
	 ○	 ○		 ○	 ○
	 ○	 ○	 ○	 ○	 ○

Voor mama en papa: toverstaf = 1, schoenen = 2, koningen = 3, klavertje = 4, hand = 5, kaarsjes op taart = 6, dwergen = 7, spinnenpoten = 8, paddenstoel = 9, tenen = 10



Hoeveel emmertjes zie je op de tekening? Trek een streep van het emmertje naar het juiste hoeveelheidsprentje. Werk ook zo voor alle andere figuurtjes die je op de tekening ziet.
 * **Mama en papa, kijk ook eens naar de uitleg bij taak 14!**

